



BROTHER'S  
SCHOOL

Guía 2 de trabajo Matemática  
Primero básico

Asignatura  
MATEMÁTICA

Profesores  
María José Soto Ulloa  
Francisca Salinas  
Profesora Diferencial  
Rosa Sepúlveda C.



OA 1 Contar números del 0 al 100, de 1 en 1, de 2 en 2, de 5 en 5 y de 10 en 10, hacia delante y hacia atrás, empezando por cualquier número menor que 100

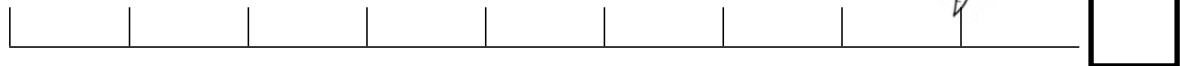


Hoy contaremos números de 2 en 2 y de 5 en 5, por tramos; por ejemplo, de 25 hasta 40.  
¿Recuerdas lo visto la vez anterior?

¡Yo lo recuerdo! Contamos de 1 en 1, 2 en 2 y 5 en 5, ¿me ayudarías a resolver los siguientes problemas?



Si el conejito está parado sobre el número 0 y decide **avanzar** de 1 en 1 ¿Cuántos saltos dará hasta llegar a la zanahoria? Responde en el recuadro



0




**BROTHER'S  
SCHOOL**

**Guía 2 de trabajo Matemática  
Primero básico**

**Asignatura  
MATEMÁTICA**

**Profesores**  
María José Soto Ulloa  
Francisca Salinas  
**Profesora Diferencial**  
Rosa Sepúlveda C.

La ranita René está parado sobre el número 0, decide **avanzar** de 2 en 2 para alcanzar su alimento ¿Cuántos brincos dará? Responde sobre el recuadro



0

Pepe Grillo está parado sobre el número 0, decide **avanzar** de 5 en 5 para llegar a su hoja ¿Cuántos brincos dará? Responde sobre el recuadro



0

Paula, cada **2** días debe colocarse una inyección en el consultorio ella marca con un "X" el primer día. Pinta los casilleros en el calendario de los días en que Paula debe asistir al consultorio a colocarse sus inyecciones.

**Marzo 2020**

Domingo	Lunes	Martes	Miércoles	Jueves	Viernes	Sábado
1	2	3	4	5	6	7
8	9	10	11	12 X	13	14
15	16	17	18	19	20	21
22	23	24	25	26	27	28
29	30	31				



BROTHER'S  
SCHOOL

## Guía 2 de trabajo Matemática Primero básico

Asignatura  
MATEMÁTICA

Profesores  
María José Soto Ulloa  
Francisca Salinas  
Profesora Diferencial  
Rosa Sepúlveda C.



¿Qué días Paula se colocó las inyecciones? Escribe los números en la siguiente tabla.

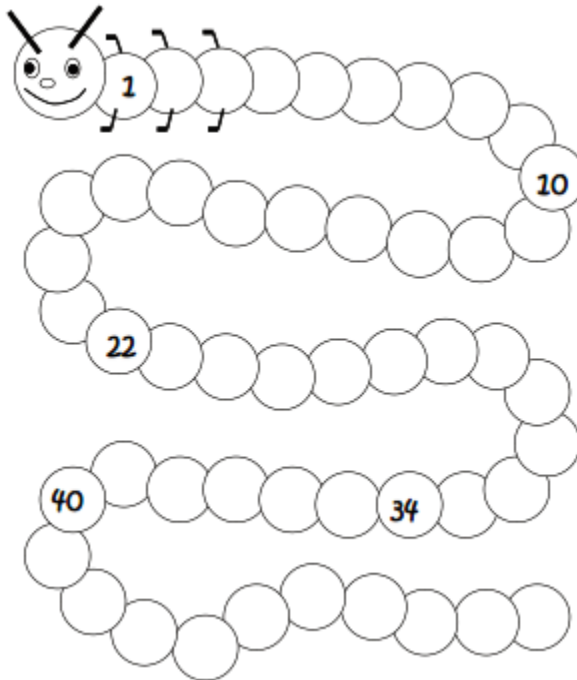


--	--	--	--	--	--	--	--	--	--



Este ciempiés es muy coqueto cada 5 números le gusta colorearse de amarillo.

- ☺ Ayuda al ciempiés a **completar** los números que le faltan
- ☺ Avanza de **5 en 5**, y colorea de amarillo el número que corresponda.





BROTHER'S  
SCHOOL

Guía 2 de trabajo Matemática  
Primero básico

Asignatura  
MATEMÁTICA

Profesores  
María José Soto Ulloa  
Francisca Salinas  
Profesora Diferencial  
Rosa Sepúlveda C.

Para finalizar la  
tarea del día de hoy,  
evalúa tus  
conocimientos




¿Cómo te resultó la actividad? Pinta y responde




Fácil

Porque \_\_\_\_\_  
\_\_\_\_\_  
\_\_\_\_\_  
\_\_\_\_\_  
\_\_\_\_\_  
\_\_\_\_\_



me costó poco

Porque \_\_\_\_\_  
\_\_\_\_\_  
\_\_\_\_\_  
\_\_\_\_\_  
\_\_\_\_\_  
\_\_\_\_\_



me costó mucho

Porque \_\_\_\_\_  
\_\_\_\_\_  
\_\_\_\_\_  
\_\_\_\_\_  
\_\_\_\_\_  
\_\_\_\_\_

ESTA GUÍA DEBERÁS ARCHIVARLA EN UNA CARPETA D COLOR AZUL, LA CUAL SERÁ EXCLUSIVA DE LA ASIGNATURA DE MATEMÁTICA.