





## OA 2

Leer números hasta 1 000 y representarlos en forma concreta, pictórica y simbólica.

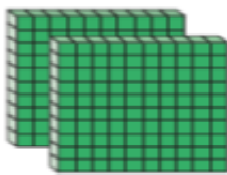
### Aprendo

10 decenas representan 1 centena. Con cifras se escribe 100 y se lee "cien".

Centenas (C)	Decenas (D)	Unidades (U)
		
1	0	0

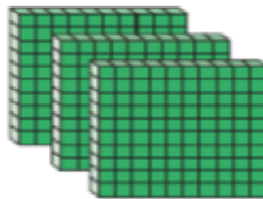
Las centenas se representan y se leen como se señala a continuación:

$$2 C = 200$$



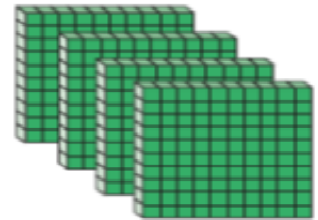
Doscientos

$$3 C = 300$$



Trescientos

$$4 C = 400$$



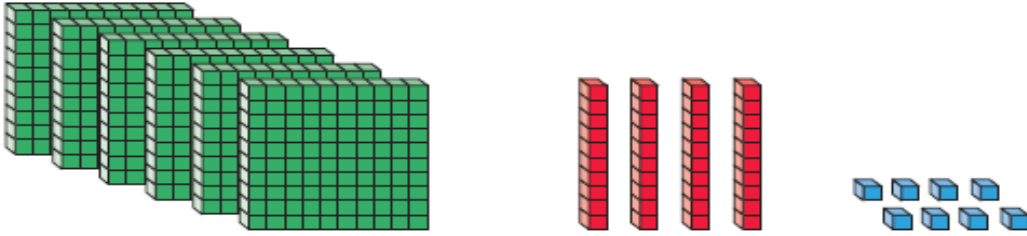
Cuatrocientos

Número	Escritura con palabras
500	Quinientos
600	Seiscientos
700	Setecientos
800	Ochocientos
900	Novecientos



Ejemplo

Escribe con cifras y con palabras el número representado.



¿Cómo lo hago?

1) Cuenta las centenas, decenas y unidades y represéntalas en la tabla posicional.

Centenas (C)	Decenas (D)	Unidades (U)
6	4	8

2) Escribe con cifras y con palabras el número representado.

Con cifras ► 648

Con palabras ► Seiscientos cuarenta y ocho.




Ahora hazlo tú...

1) Catalina compró un helado con las monedas que se muestran en la imagen.



Si no recibió vuelto, ¿cuál es el precio del helado?

1) Representa la cantidad de dinero correspondiente a cada tipo de moneda.

		
8 monedas	7 monedas	5 monedas
▼	▼	▼
<input type="text"/>	<input type="text"/>	<input type="text"/>

2) Escribe con cifras y con palabras el precio del helado.

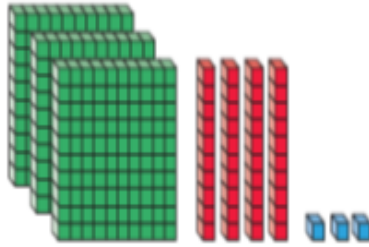
Con cifras ► \$

Con palabras ► \_\_\_\_\_



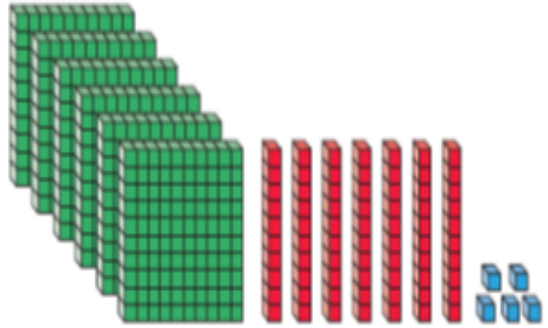
Escribe con cifras el número representado en cada caso.

a.



▶

b.



▶

Escribe con palabras los números de la actividad .

a. \_\_\_\_\_

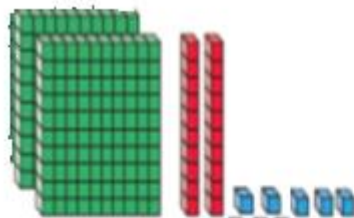
\_\_\_\_\_

b. \_\_\_\_\_

\_\_\_\_\_

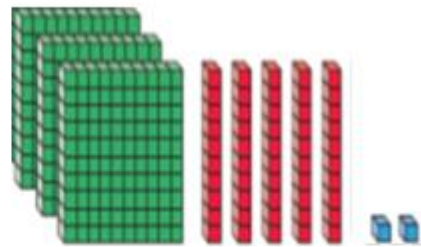
Escribe con cifras el número representado en cada caso.

a.



▶

b.



▶

Escribe con palabras los números de la actividad .

a. \_\_\_\_\_

\_\_\_\_\_

b. \_\_\_\_\_

\_\_\_\_\_