



BROTHER'S
SCHOOL

Guía 1 de trabajo Matemática Primero básico

Asignatura
MATEMÁTICA

Profesores
María José Soto Ulloa
Francisca Salinas
Prof. Diferencial
Rosa Sepúlveda C.



OA 1 Contar números del 0 al 100, de 1 en 1, de 2 en 2, de 5 en 5 y de 10 en 10, hacia delante y hacia atrás, empezando por cualquier número menor que 100



Hoy contaremos de 1 en 1 números dados en una secuencia numérica hasta 15, partiendo de 0, cuentan hasta 20 de 2 en 2, partiendo de 0, y cuentan hasta 50 de 5 en 5 partiendo de 0.

¿Estás listo? ¡Comencemos!



© Ya sabes contar hasta 10, ¿repasemos los números?, te recomiendo que utilices tu dedo índice y vayas indicando el número en voz alta:

0 - 1 - 2 - 3 - 4 - 5 - 6 - 7 - 8 - 9 y 10

Ahora cantemos la canción "cantando los números" pídele a mamá o papá que busque por internet el siguiente link <https://www.youtube.com/watch?v=pSqnI2eSu9Y>.

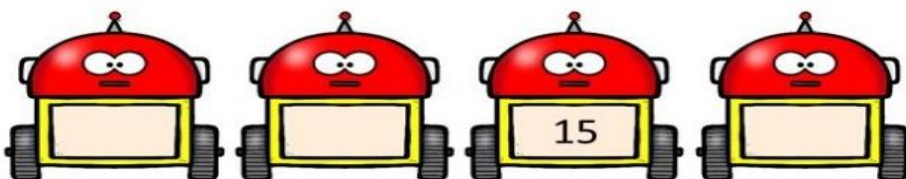
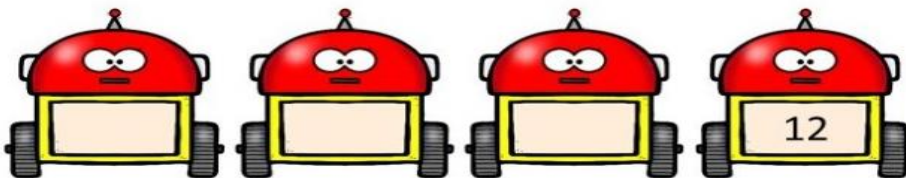
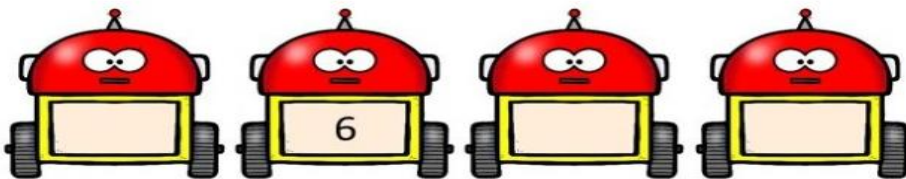
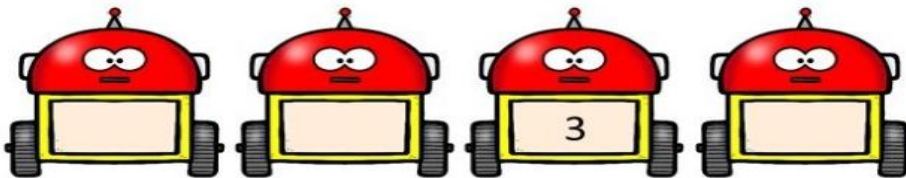


1	2	3	4	5	6	7	8	9	10
11	12	13	14	15	16	17	18	19	20
21	22	23	24	25	26	27	28	29	30
31	32	33	34	35	36	37	38	39	40
41	42	43	44	45	46	47	48	49	50
51	52	53	54	55	56	57	58	59	60
61	62	63	64	65	66	67	68	69	70
71	72	73	74	75	76	77	78	79	80
81	82	83	84	85	86	87	88	89	90
91	92	93	94	95	96	97	98	99	100



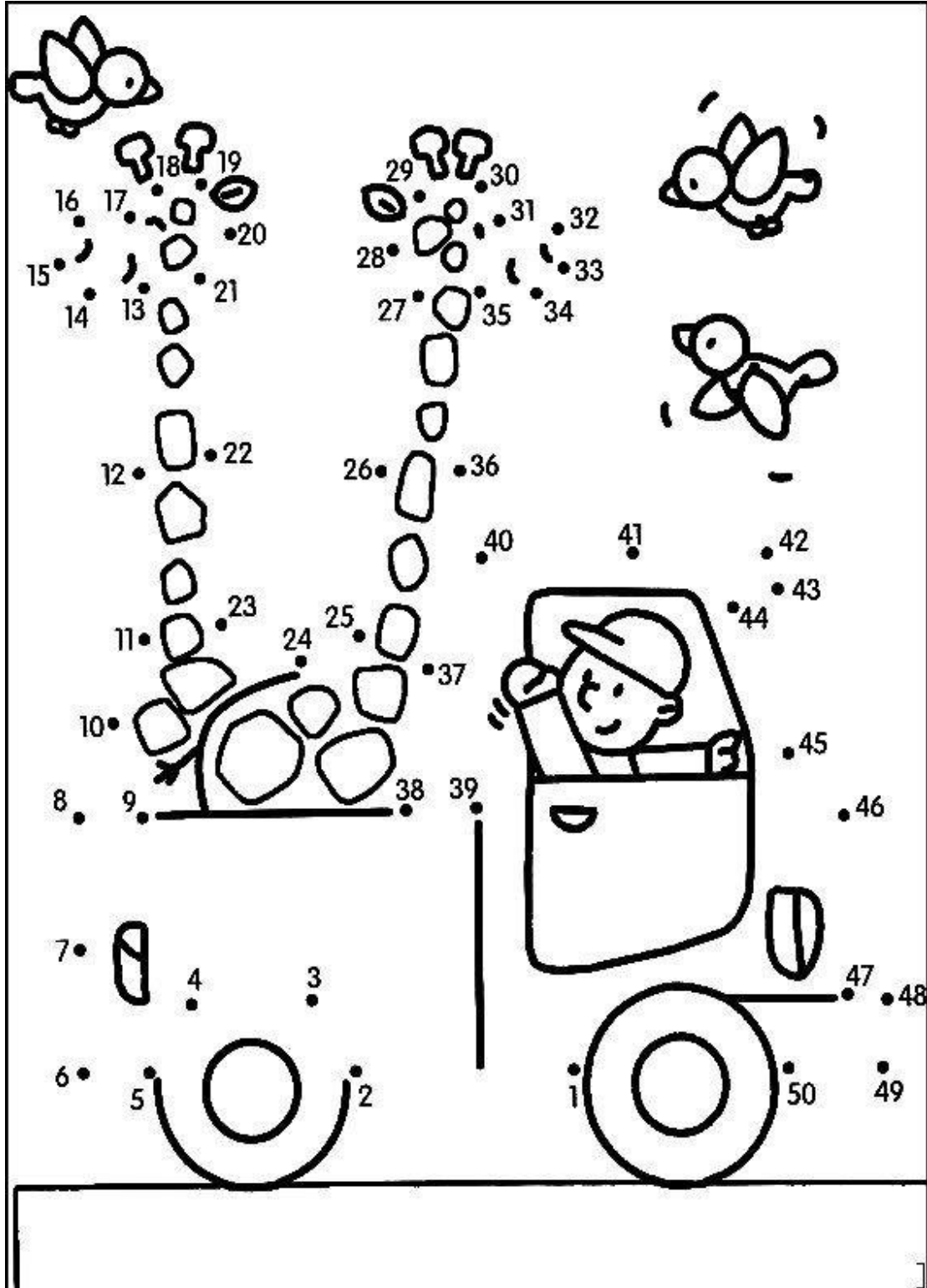
Ésta es una tabla de 100, es un cuadro que está formado por los números del 1 al 100 distribuidos en 10 filas de 10

1. Anota los números que **faltan**, luego cuenta de 1 en 1 y en voz alta.





- Une los puntos y descubre la imagen
- Encierra con color los números que marcaste en la tabla anterior y **cuenta de 5 en 5**, en voz alta.





BROTHER'S
SCHOOL

Guía 1 de trabajo Matemática
Primero básico

Asignatura
MATEMÁTICA


Profesores
María José Soto Ulloa
Francisca Salinas
Prof. Diferencial
Rosa Sepúlveda C.

4. Sigue las instrucciones


☺ Cuenta de 1 en 1 y anota el resultado en el



☺ Cuenta de 2 en 2 y anota el resultado en el



☺ Cuenta de 5 en 5 y anota el resultado en el





BROTHER'S
SCHOOL

**Guía 1 de trabajo Matemática
Primero básico**

**Asignatura
MATEMÁTICA**

Profesores
María José Soto Ulloa
Francisca Salinas
Prof. Diferencial
Rosa Sepúlveda C.

Para finalizar la
tarea del día de hoy,
evalúa tus
conocimientos




¿Cómo te resultó la actividad? Pinta y responde




Fácil

Porque _____



me costó poco

Porque _____



me costó mucho

Porque _____

ESTA GUÍA DEBERÁS ARCHIVARLA EN UNA CARPETA DE COLOR AZUL, LA CUAL SERÁ EXCLUSIVA DE LA ASIGNATURA DE MATEMÁTICA.